

روز ارزشیابی :

کلاس : دوم **داداشی حقیقت**

تاریخ ارزشیابی :

دقیقه

مدت پاسخ گویی :

نام خانوادگی

نام :

۱- ۱۰ سکه ی ده ریالی را می توان با چه سکه ای عوض کرد؟

۵۰ سکه ی یک ریالی را می توان با چند سکه ده ریالی عوض کرد؟

۱۰۰ تا سکه ی یک ریالی را با چند سکه ی ده ریالی می توان عوض کرد؟

۲- جاهای خالی را با نوشتن عدد مناسب کامل کن.

- ۶ سکه ی ۱۰۰ ریالی و ۷ سکه ی ۱۰ ریالی و ۹ سکه ی ۱ ریالی می شود ریال.

- ۲ دسته ی ۱۰۰ تایی، ۹ دسته ی ۱۰ تایی و ۲ یکی می شود

- ۸ دسته ی ۱۰۰ تایی با ۵ دسته ی ۱۰ تایی می شود

۳ ۵۴۵ ریال برابر است با سکه ی ۱۰۰ ریالی، سکه ی ۱۰ ریالی و سکه ی ۱ ریالی.

- ۳۰۶ ریال برابر است با سکه ی ۱۰۰ ریالی و سکه ی ۱۰ ریالی.

۴- تفاوت و شباهت دو شکل زیر را بنویس.



شباهت:

تفاوت:

۵- با کارت های ۹ و ۳ و ۶ چند عدد سه رقمی می توان نوشت؟ آن ها را بساز و بنویس.

.....

حالا از بین عددهایی که ساختی بزرگ ترین و کوچک ترین عدد را بنویس. و

در کدام عددها رقم صدگان از دهگان بزرگتر است؟ آن ها را بنویس.

در کدام عددها جمع رقم صدگان و دهگان برابر یکان است؟ آن ها را بنویس.

۶- مریم ۹۸ ریال داشت. پدرش ۹ ریال دیگر به او داد ولی او ۸ ریال به برادرش داد. حالا مریم چقدر پول دارد؟

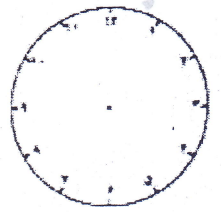
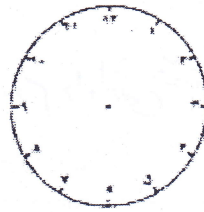
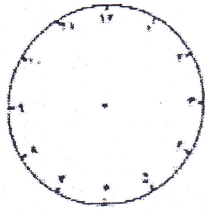
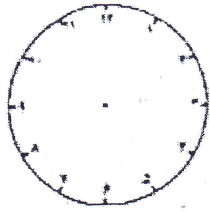
.....

۷- اعداد زیر را به صورت باز شده (گسترده) بنویس.

۸۶۳ =

۹۵۰ =

۸ - یا کشیدن عقربه، زمان ساعت‌های زیر را نشان بده.



۲۰ دقیقه مانده به ۶

یک ربع مانده به ۵

نیم ساعت بعد از ۲

یک ربع بعد از ۸:۱۵

۹ - ۱۲- با حذف رقم یکان و دهگان، عددهای زیر را به صورت تقریبی بنویس و سپس عددها را جمع یا تفریق کن.

۶۴۶ →

۸۶۳ →

+ ۲۰۸ → +

- ۳۲۰ → -

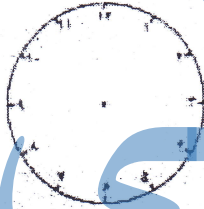
۱۰ - - - - ۹۲ - ۸۳ - ۷۴

الگوها را کامل کن

۵ - ۶ - ۸ - ۱۱ - - -



۱۱ - اگر ساعت ۴:۲۵ باشد، ربع ساعت بعد ساعت چند است؟



عقربه‌های ساعت را بکش و مقدار حرکت عقربه‌ی بزرگ را با رنگ کردن نشان بده.

۱۲ - ساعت ۲:۲۰ دقیقه است ۱ ساعت و ۳۰ دقیقه بعد ساعت چند می شود؟

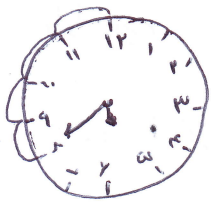
۱۳ - ساعت ۱۰:۴۵ است ۴ ساعت و ربع دقیقه . ساعت چند می شود؟

ارزشیابی خود دانش آموز

باز خورد	خیلی خوب	خوب	قابل قبول	نیاز به تلاش
مفاهیم پایه ریاضی را خوب می شناسد				
مسئله‌ها را دقیق تشخیص می دهد				
زمان ساعت ها در بعد و قبل را کامل می نویسد.				
اعداد سه رقمی را کامل می نویسد.				
اعداد را به خوبی تلفظ کرده نویسی و تقریب می زند				
تشابهت و تفاوت شکل‌ها را می شناسد				
تکسوی اعداد و مسئله را به خوبی حل می کند				

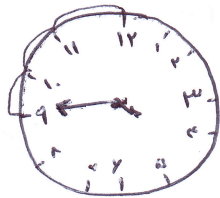


	<p>۱) الف) ۱۰۰ اسکنه ریالی ب) ۱۰ اسکنه ریالی ج) ۱۰۰ اسکنه ریالی</p>
	<p>۲) الف) $\begin{array}{r l} ۹ & ۶۷۹ \\ \hline ۲ & ۲۹۲ \end{array}$ ب) $\begin{array}{r l} ۲ & ۲۹۲ \\ \hline ۹ & ۲۳۹ \end{array}$ ج) $\begin{array}{r l} ۸ & ۸۵۵ \\ \hline ۱ & ۱۰۷ \end{array}$ ۳) > ۱۰۰ اسکنه ریالی و ۱۰ اسکنه ریالی و ده کپی ۵) ۱۰۰ اسکنه ریالی و ۱۰ اسکنه ریالی</p>
	<p>۴) شباهت = هر دو مبلغ و سه گوشه دارند. تفاوت = شکل شماره ۱ مبلغ هاش برابر نیست. ولی شکل ۲ مبلغ هاش برابر است.</p>
	<p>الف) $\begin{array}{r} ۹۳۲ \\ - ۲۹۲ \\ \hline ۶۴۰ \end{array}$ ب) $\begin{array}{r} ۳۶۹ \\ - ۹۶۳ \\ \hline ۲۳۹ \end{array}$ ج) $۹۶۳ - ۶۳۲ - ۲۳۹$ د) $۲۳۹ - ۳۶۹$</p>
	<p>۲) $۹۸ + ۹ = ۱۰۷$ $\begin{array}{r} - ۱۰۷ \\ ۸ \\ \hline ۹۹ \end{array}$</p>
	<p>۷) $۸۲۳ = ۸۰۰ + ۲۰ + ۳$ $۹۵۰ = ۹۰۰ + ۵۰$</p>



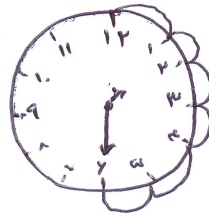
۲ دقیقه مانده به ۲

(دقیقه ۴: ۲)




یک ربع مانده به ۵

(دقیقه ۴: ۴۵) (۲: ۴۵)



نیم ساعت بعد از ۱



یک ربع بعد از ۸

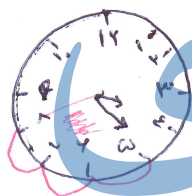
(دقیقه ۸: ۳۰)

$$\begin{array}{r} 442 \rightarrow \frac{400}{+ 201 \rightarrow + \frac{200}{\hline 800}} \end{array}$$

$$\begin{array}{r} 123 \rightarrow \frac{800}{- 320 \rightarrow - \frac{200}{\hline 600}} \end{array}$$

$$\begin{array}{ccccccc} 74 & - & 13 & - & 92 & - & 101 & - & 110 & - & 119 \\ \hline & +9 & & +9 & & +9 & & +9 & & +9 & \end{array}$$

$$\begin{array}{ccccccc} 5 & - & 6 & - & 1 & - & 11 & - & 101 & - & 20 & - & 22 \\ \hline & +1 & & +2 & & +3 & & +4 & & +5 & & +6 & \end{array}$$



جزوه سیپی

(الف)

$$\begin{array}{r} + 2:20 \\ 1:30 \\ \hline ساعت 3:50 دقیقه است \end{array}$$

$$\begin{array}{r} 10:45 \\ - 4:15 \\ \hline 6:30 \end{array}$$